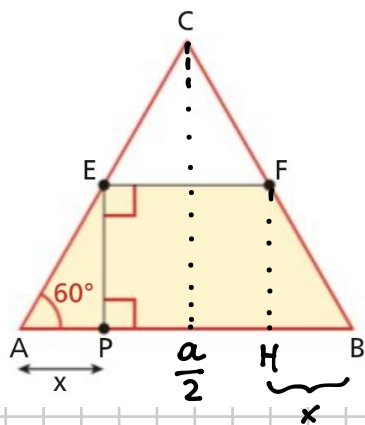


471

Dati un triangolo equilatero ABC di lato $\overline{AB} = a$ e un punto P di AB , trova la posizione di P che rende massima l'area del trapezio $PBFE$.

$$\left[\overline{AP} = \frac{a}{3} \right]$$



$$\overline{PB} = a - x \quad \overline{EF} = a - 2x$$

$$\overline{EP} = x \tan 60^\circ = \sqrt{3}x$$

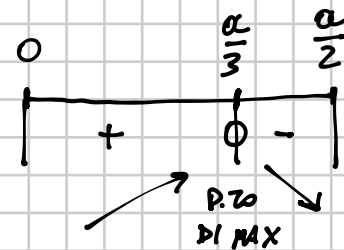
$$x \in \left[0, \frac{a}{2} \right] \quad 0 \leq x \leq \frac{a}{2}$$

$$\begin{aligned} \mathcal{A}(x) &= \frac{(\overline{PB} + \overline{EF}) \overline{EP}}{2} = \\ &= \frac{(a - x + a - 2x) \sqrt{3}x}{2} = \\ &= \frac{(2a - 3x) \sqrt{3}x}{2} = \\ &= \frac{-3\sqrt{3}x^2 + 2a\sqrt{3}x}{2} \end{aligned}$$

$$\begin{aligned} \mathcal{A}'(x) &= \frac{1}{2} (-6\sqrt{3}x + 2a\sqrt{3}) = -3\sqrt{3}x + a\sqrt{3} = \\ &= \sqrt{3}(a - 3x) \end{aligned}$$

$$\mathcal{A}'(x) = 0 \Rightarrow a - 3x = 0 \Rightarrow x = \frac{a}{3}$$

$$\mathcal{A}'(x) > 0 \Rightarrow a - 3x > 0 \Rightarrow x < \frac{a}{3}$$



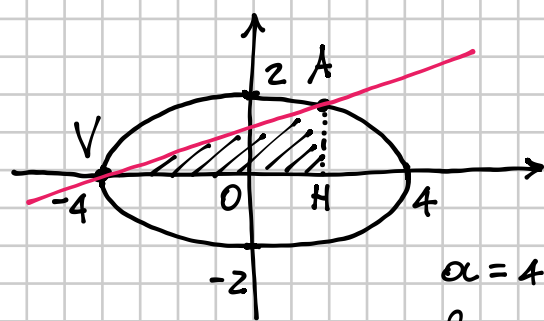
PUNTO DI MASSIMO $x = \frac{a}{3}$

Per calcolare il VALORE dell'area massima sostituisco il p.to di max $x = \frac{a}{3}$ nell'espressione della funzione

$$\begin{aligned} \mathcal{A}_{\text{MAX}} &= \mathcal{A}\left(\frac{a}{3}\right) = \frac{-3\sqrt{3}\left(\frac{a}{3}\right)^2 + 2a\sqrt{3} \cdot \frac{a}{3}}{2} = \frac{-\frac{\sqrt{3}}{3}a^2 + 2a^2\frac{\sqrt{3}}{3}}{2} = \\ &= \frac{\sqrt{3}}{6}a^2 \end{aligned}$$

Scrivi l'equazione dell'ellisse che ha vertice $V(-4; 0)$ e semiasse minore di lunghezza 2. Trova poi il coefficiente angolare della retta, passante per V , che intersechi l'ellisse nel punto A di ordinata $y \geq 0$ e formi il triangolo VAH di area massima, essendo H la proiezione di A sull'asse x .

$$\left[\frac{\sqrt{3}}{6} \right]$$



$$\frac{x^2}{a^2} + \frac{y^2}{b^2} = 1$$

$$\frac{x^2}{16} + \frac{y^2}{4} = 1$$

\Downarrow

$$\frac{y^2}{4} = 1 - \frac{x^2}{16}$$

$$y^2 = 4 - \frac{x^2}{4}$$

$$y = \pm \sqrt{4 - \frac{x^2}{4}}$$

+ parte sup.
- parte inf.

$$y - y_V = m(x - x_V) \quad \text{gen. retta per } V$$

$$y = m(x + 4) \quad \text{con } m > 0$$

$$m > 0 \quad 0 \leq y \leq 2$$

$$\uparrow \quad -4 \leq x \leq 4$$

CONDIZIONI SOTTO CUI
RISOLVIAMO IL SISTEMA

$$A \begin{cases} y = m(x + 4) \\ y = \sqrt{4 - \frac{x^2}{4}} \end{cases}$$

$$m(x + 4) = \sqrt{4 - \frac{x^2}{4}}$$

$$m^2(x + 4)^2 = 4 - \frac{x^2}{4}$$

$$m^2(x^2 + 16 + 8x) - 4 + \frac{x^2}{4} = 0$$

$$m^2x^2 + 16m^2 + 8m^2x - 4 + \frac{x^2}{4} = 0$$

$$4m^2x^2 + x^2 + 32m^2x + 64m^2 - 16 = 0$$

$$(4m^2 + 1)x^2 + 32m^2x + 64m^2 - 16 = 0$$

$$\frac{\Delta}{4} = \beta^2 - \alpha\gamma = 256m^4 - (4m^2 + 1)(64m^2 - 16) =$$

$$= 256m^4 - 256m^4 + 64m^2 - 64m^2 + 16 = 16$$

$$x = \frac{-16m^2 \pm 4}{4m^2 + 1} = \begin{cases} \frac{-16m^2 - 4}{4m^2 + 1} = -4 \\ \frac{-16m^2 + 4}{4m^2 + 1} \end{cases}$$

mi ride il punto $V(-4, 0)$

$$y = m(x + 4)$$

$$y = m \left(\frac{-16m^2 + 4}{4m^2 + 1} + 4 \right) = m \frac{-16m^2 + 4 + 16m^2 + 4}{4m^2 + 1} =$$

$$= \frac{8m}{4m^2 + 1}$$

$$A \left(\frac{-16m^2 + 4}{4m^2 + 1}, \frac{8m}{4m^2 + 1} \right)$$

$$A \left(\overbrace{\frac{-16m^2+4}{4m^2+1}}^{\overline{OH}}, \overbrace{\frac{8m}{4m^2+1}}^{\overline{AH}} \right)$$

$$m > 0 \quad \overline{VH} = \overline{OH} + \overline{VO} = \\ = x_A + 4$$

$$A = \frac{1}{2} \overline{AH} \cdot \overline{VH}$$

$$A(m) = \frac{1}{2} \frac{8m}{4m^2+1} \cdot \left(\frac{-16m^2+4}{4m^2+1} + 4 \right) = \frac{4m}{4m^2+1} \cdot \frac{-16m^2+4+16m^2+4}{4m^2+1} =$$

$$m \geq 0$$

$$= \frac{32m}{(4m^2+1)^2} \quad \text{FUNZIONE AREA} \quad \left(\text{oss. } \lim_{m \rightarrow +\infty} A(m) = 0 \right)$$

$$A'(m) = 32 \frac{(4m^2+1)^2 - m \cdot 2(4m^2+1) \cdot 8m}{(4m^2+1)^4} =$$

$$= 32 \frac{16m^4 + 1 + 8m^2 - 64m^4 - 16m^2}{(4m^2+1)^4} = 32 \frac{-48m^4 - 8m^2 + 1}{(4m^2+1)^4}$$

$$A'(m) = 0 \Rightarrow 48m^4 + 8m^2 - 1 = 0 \quad \Delta = 16 + 48 = 64 = 8^2$$

$$m^2 = \frac{-4 \pm 8}{48} = \begin{cases} -\frac{12}{48} \text{ NON ACC. perché } m^2 \geq 0 \\ \frac{4}{48} = \frac{1}{12} \end{cases}$$

$$m^2 = \frac{1}{12} \Rightarrow m = \frac{1}{\sqrt{12}} =$$

$$= \frac{1}{2\sqrt{3}} \cdot \frac{\sqrt{3}}{\sqrt{3}} =$$

$$= \frac{\sqrt{3}}{6}$$

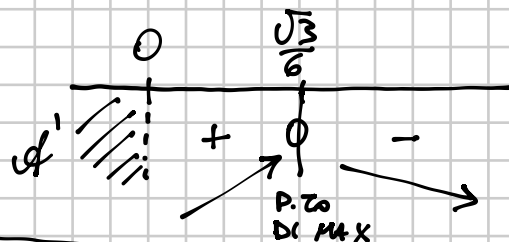
CANDIDATO MAX

Devo studiare il segno di $A'(m)$

$$A'(m) > 0 \Rightarrow -48m^4 - 8m^2 + 1 > 0$$

$$48m^4 + 8m^2 - 1 < 0$$

$$0 < m^2 < \frac{1}{12} \Rightarrow 0 < m < \frac{\sqrt{3}}{6}$$



$$m = \frac{\sqrt{3}}{6} \text{ P.TO DI MASSIMO}$$

$$y = (x+2)^2 e^{-x}$$

1) DOMINIO $\mathbb{R} = (-\infty, +\infty)$

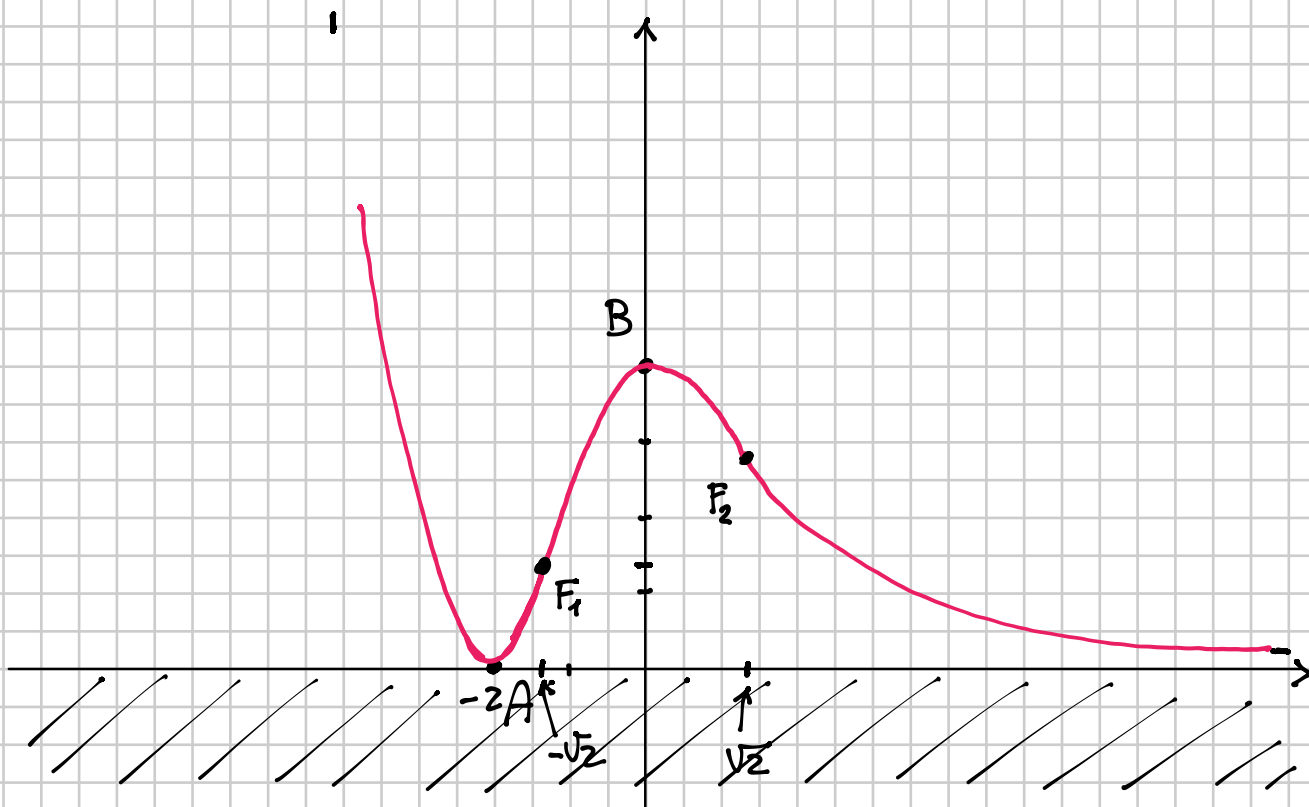
2) INTERSEZIONI CON GLI ASSI

$$\begin{cases} y=0 \\ y=(x+2)^2 e^{-x} \end{cases} \Rightarrow (x+2)^2 e^{-x} = 0 \Rightarrow x+2=0 \Rightarrow x=-2$$

$A(-2, 0)$

$$\begin{cases} x=0 \\ y=(x+2)^2 e^{-x} \end{cases} \Rightarrow \begin{cases} x=0 \\ y=4 \end{cases}$$

$B(0, 4)$



3) SEGNO DI f

$$(x+2)^2 e^{-x} > 0 \quad \forall x \neq -2$$

4) LIMITI AGLI ESTREMI DEL DOMINIO

$$\lim_{x \rightarrow -\infty} (x+2)^2 e^{-x} = +\infty \cdot (+\infty) = +\infty$$

$$\lim_{x \rightarrow +\infty} \frac{(x+2)^2}{e^x} = 0$$

$y=0$ È
ASIMOTTO ORIZZ.
PER $x \rightarrow +\infty$

5) RICERCA ASINTOTI OBLIQUI (per $x \rightarrow -\infty$ perché per $x \rightarrow +\infty$ ho già trovato $y=0$)

$$m = \lim_{x \rightarrow -\infty} \frac{f(x)}{x} = \lim_{x \rightarrow -\infty} \frac{(x+2)^2 e^{-x}}{x} = +\infty$$

NON CI SONO ASINTOTI OBLIQUI PER $x \rightarrow -\infty$

↑
per la gerarchia degli infiniti

6) STUDIO DELLA DERIVATA PRIMA

$$f(x) = (x+2)^2 e^{-x}$$

$$f'(x) = 2(x+2)e^{-x} + (x+2)^2 \cdot (-e^{-x}) =$$

$$= (x+2)e^{-x} (2 - (x+2)) =$$

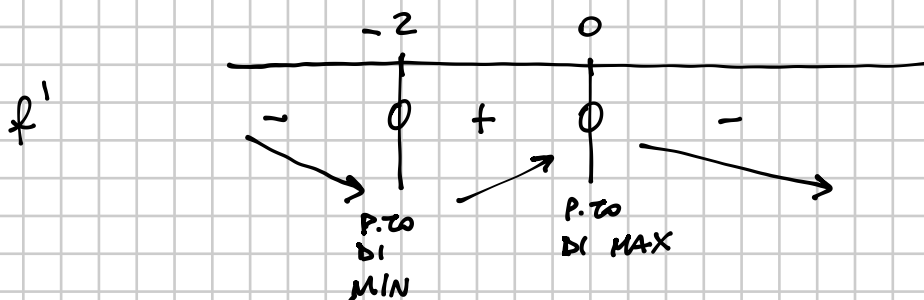
$$= -x(x+2)e^{-x}$$

ZERI DELLA DERIVATA

$$f'(x) = 0 \quad -x(x+2)e^{-x} = 0 \Rightarrow x = 0 \vee x = -2$$

SEGNO DELLA DERIVATA

$$f'(x) > 0 \quad -x(x+2)e^{-x} > 0 \Rightarrow x(x+2)e^{-x} < 0 \Rightarrow -2 < x < 0$$



SOSTITUISCO NELLA FUNZIONE

$$x = -2$$

$$y = 0$$

$$A(-2, 0)$$

$$x = 0$$

$$y = (0+2)^2 e^{-0} = 4$$

$$B(4, 0)$$

7) STUDIO DELLA DERIVATA SECONDA

$$f'(x) = -x(x+2)e^{-x} = (-x^2 - 2x)e^{-x}$$

$$f''(x) = (-2x-2) \cdot e^{-x} + (-x^2-2x) \cdot (-e^{-x}) =$$

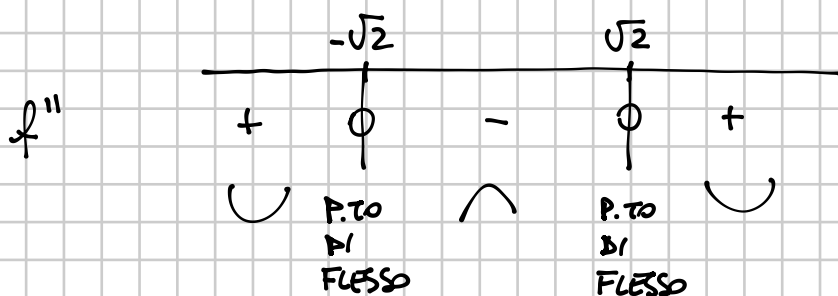
$$= e^{-x} (-\cancel{2x} - 2 + x^2 + \cancel{2x}) = e^{-x} (x^2 - 2)$$

ZERI DI f''

$$e^{-x}(x^2 - 2) = 0 \Rightarrow x = \pm\sqrt{2} \quad \text{CANDIDATI FLESSI}$$

SEGNO DI f''

$$e^{-x}(x^2 - 2) > 0 \Rightarrow x^2 - 2 > 0 \Rightarrow x < -\sqrt{2} \vee x > \sqrt{2}$$



$$x = -\sqrt{2} \quad f(-\sqrt{2}) = (-\sqrt{2} + 2)^2 e^{\sqrt{2}} \cong 1,41 \quad F_1(-\sqrt{2}, f(-\sqrt{2}))$$

$$x = \sqrt{2} \quad f(\sqrt{2}) = (\sqrt{2} + 2)^2 e^{-\sqrt{2}} \cong 2,83 \quad F_2(\sqrt{2}, f(\sqrt{2}))$$